
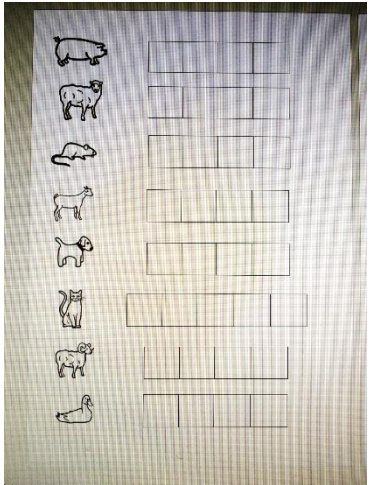
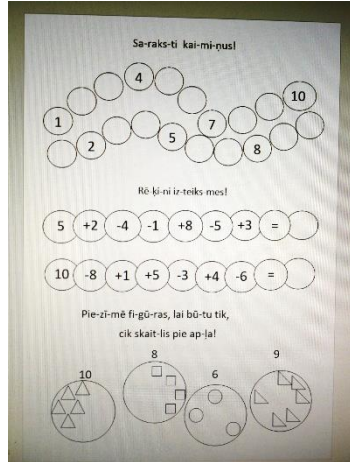




Mācību materiāli 6 līdz 7 gadus veciem bērniem – 2. nedēļa

Valodas joma	Matemātikas joma	Dabas joma
<p>1. Vingrinieties lasīt un savienot ar izlasīto attēlu. Katru vārdu velciet ar citas krāsas zīmuli/flomasteru.</p>  <p>2. Mācieties saklausīt skaņas vārdā un tās pierakstīt skaņu mājās.</p> 	<p>1. Nostiprini savas zināšanas, aizpildot skaitļu rindas un risinot izteiksmes.</p>  <p>2. Kopā lasiet un mēģiniet atrisināt vienkāršus teksta uzdevumus, pierakstot izteiksmes</p> 	<p>1. Sameklējiet mājās caurspīdīgu trauku (burku, bļodu, krūzi u.tml.). Mājās sameklējiet dažāda veida materiālus – zīmuli, dzēšgumiju, vati, papīra lapiņu, spalviņu utt. Izmēģiniet kā šīs lietas grimst vai negrimst un pārrunājiet – kāpēc?!</p> <p>2. Variet izveidot laikapstākļu kalendāru un katru dienu veikt pierakstus – saulīte spīd, pūš vējš, mākoņains, paskatīties pierakstīt temperatūru u.tml.</p>

3. Vingrinieties roku vingrinājumos.



3. Veiciet dažādas matemātiskās darbības ikdienas procesos – šķirojot veļu, klājot galdu, kārtojot mantas. Piemēram – cik zeķes izkarināji? Pakarini vēl šīs divas – cik tagad būs? U.tml.

Saklausī skaņas un aizpildi skaņu mājas!




--	--	--	--



--	--	--	--



--	--	--	--



--	--	--	--



--	--	--	--



--	--	--	--	--



--	--	--	--



--	--	--	--



--	--	--	--



--	--	--	--



--	--	--	--	--	--



--	--	--	--	--



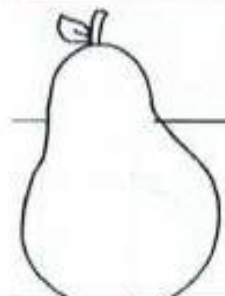
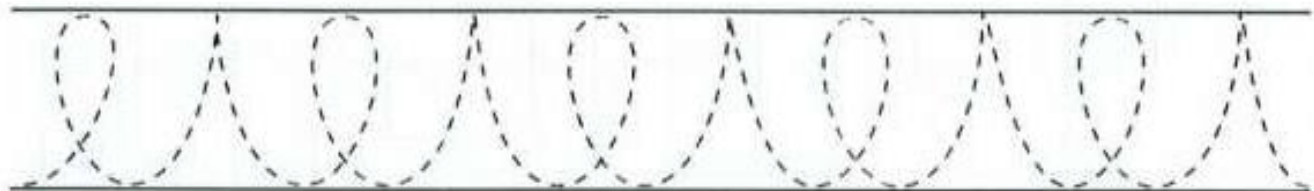
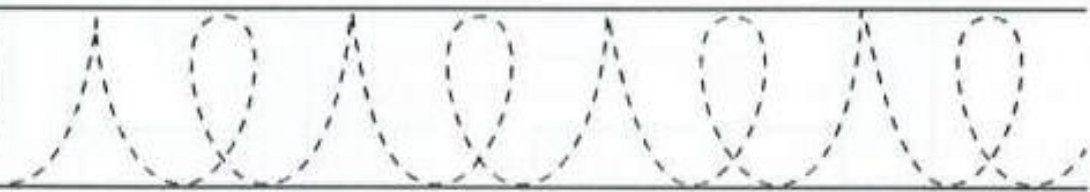


--	--	--	--	--



--	--	--	--	--



--	--	--	--	--	--



Lasi un savieno!

mā-ja



ce-pu-re



cim-di



ja-ka



bik-ses



peļ-ķe

lie-tus

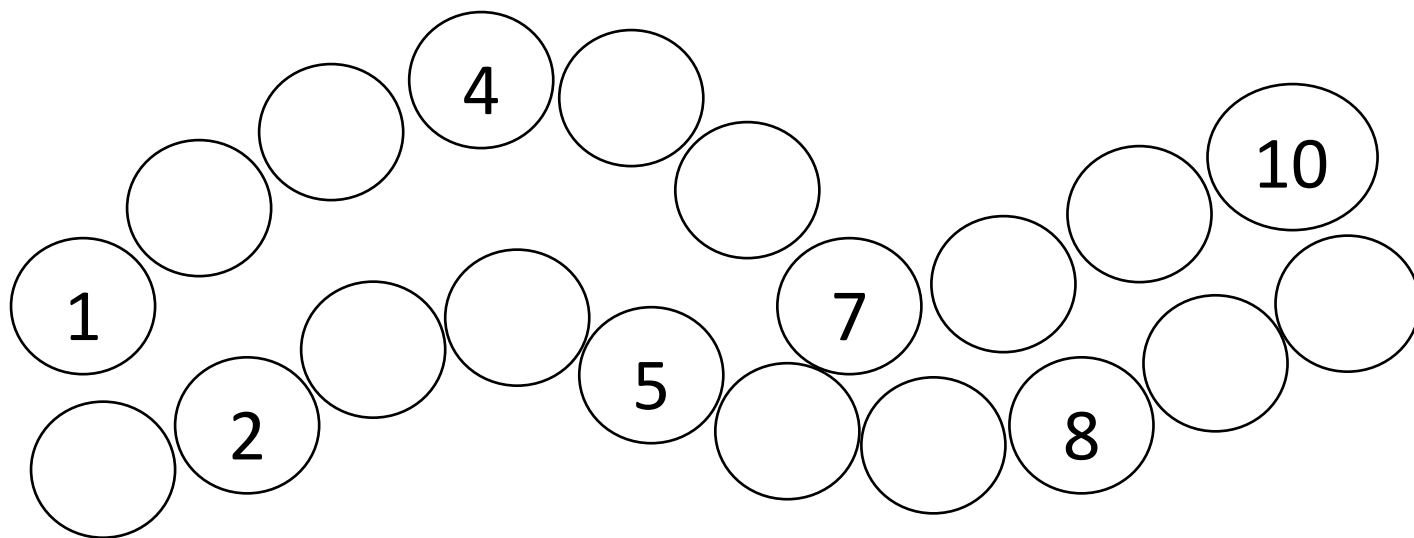
zā-ba-ki

la-pa

grā-be-klis



Sa-raks-ti kai-mi-ņus!

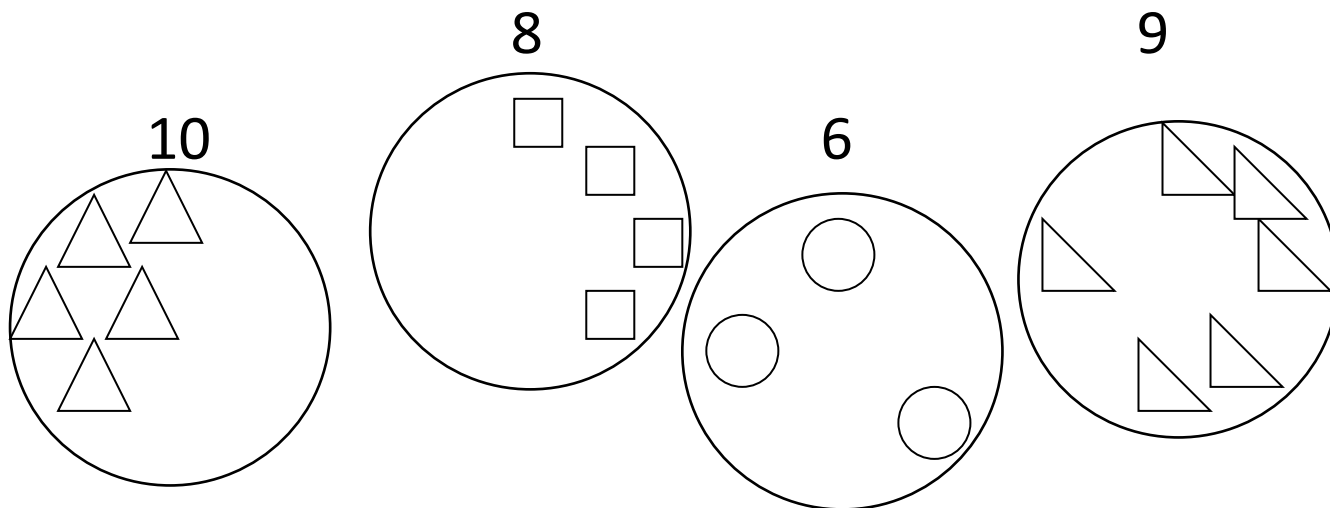


Rē-ķi-ni iz-teiks-mes!

$$5 + 2 - 4 - 1 + 8 - 5 + 3 = \quad$$

$$10 - 8 + 1 + 5 - 3 + 4 - 6 = \quad$$

Pie-zī-mē fi-gū-ras, lai bū-tu tik,
cik skai-tlis pie ap-ļa!



RISINI TEKSTA UZDEVUMU, PIERAKSTI IZTEIKSMES!

PIEMĒRAM:

1. MĀSAI IR 10 EIRO. VEIKALĀ IZTĒRĒJA 4 EIRO. CIK MĀSAI PALIKA EIRO?

10	-	4	=	6
----	---	---	---	---

2. TĒTIS BRĀLIM IEDEVA 7 EIRO. BRĀLIS NOPIRKA SALDĒJUMU PAR 4 EIRO. CIK BRĀLIM PALIKA EIRO?

--	--	--	--	--

3.MAMMA MARTAI IEDEVA 4 EIRO, TĒTIS IEDEVA ARĪ 4 EIRO. CIK MARTAI KOPĀ IR EIRO?

--	--	--	--	--

4.EMĪLAM BIJA 2 EIRO, BRĀLIS IEDEVA VIŅAM 7 EIRO. CIK EMĪLAM KOPĀ IR EIRO?

--	--	--	--	--

5.MĀSAI IR 10 EIRO. VEIKALĀ IZTĒRĒJA 4 EIRO. CIK MĀSAI PALIKA EIRO?

--	--	--	--	--

6.TĒTIS BRĀLIM IEDEVA 7 EIRO. BRĀLIS NOPIRKA SALDĒJUMU PAR 4 EIRO. CIK BRĀLIM PALIKA EIRO?

--	--	--	--	--

7.MAMMA MARTAI IEDEVA 4 EIRO, TĒTIS IEDEVA ARĪ 4 EIRO. CIK MARTAI KOPĀ IR EIRO?

--	--	--	--	--

8.EMĪLAM BIJA 2 EIRO, BRĀLIS IEDEVA VIŅAM 7 EIRO. CIK EMĪLAM KOPĀ IR EIRO?

--	--	--	--	--

