


### *Uzdevumi 6 līdz 7 gadus veciem bērniem*

Dabaszinību joma	Matemātikas joma	Valodas joma
<p>Pagatavo lupu un paskaties, kāds viss caur to izskatās!</p> 	<ol style="list-style-type: none"><li>1. Uzraksti-cik kāju pāru ir pīlēm un noskaidro, cik konfekšu kopā.</li><li>2. Atrod arī dotā skaitļa kaimiņu.</li><li>3. Saskaiti konfektes.</li></ol>	<ol style="list-style-type: none"><li>1. Lasi kopā zīmējumā attēloto lietu nosaukumu otros burtus. Uzdevums - kopā izlasīt un uzzīmēt zīmējumus atminējumiem. Ja lasīt grūti, burtus nosauc un pieraksti, tad izlasiet visu tekstu.</li><li>2. Mazākumtautību bērniem no dotajiem burtiem salikt vārdu.</li></ol>

Lai novērotu kukaiņus, pats vari pagatavot lupu.

## Lupas pagatavošana

### Nepieciešams:

Pudeles paliknis no folija

Koka irbulītis

Ūdens

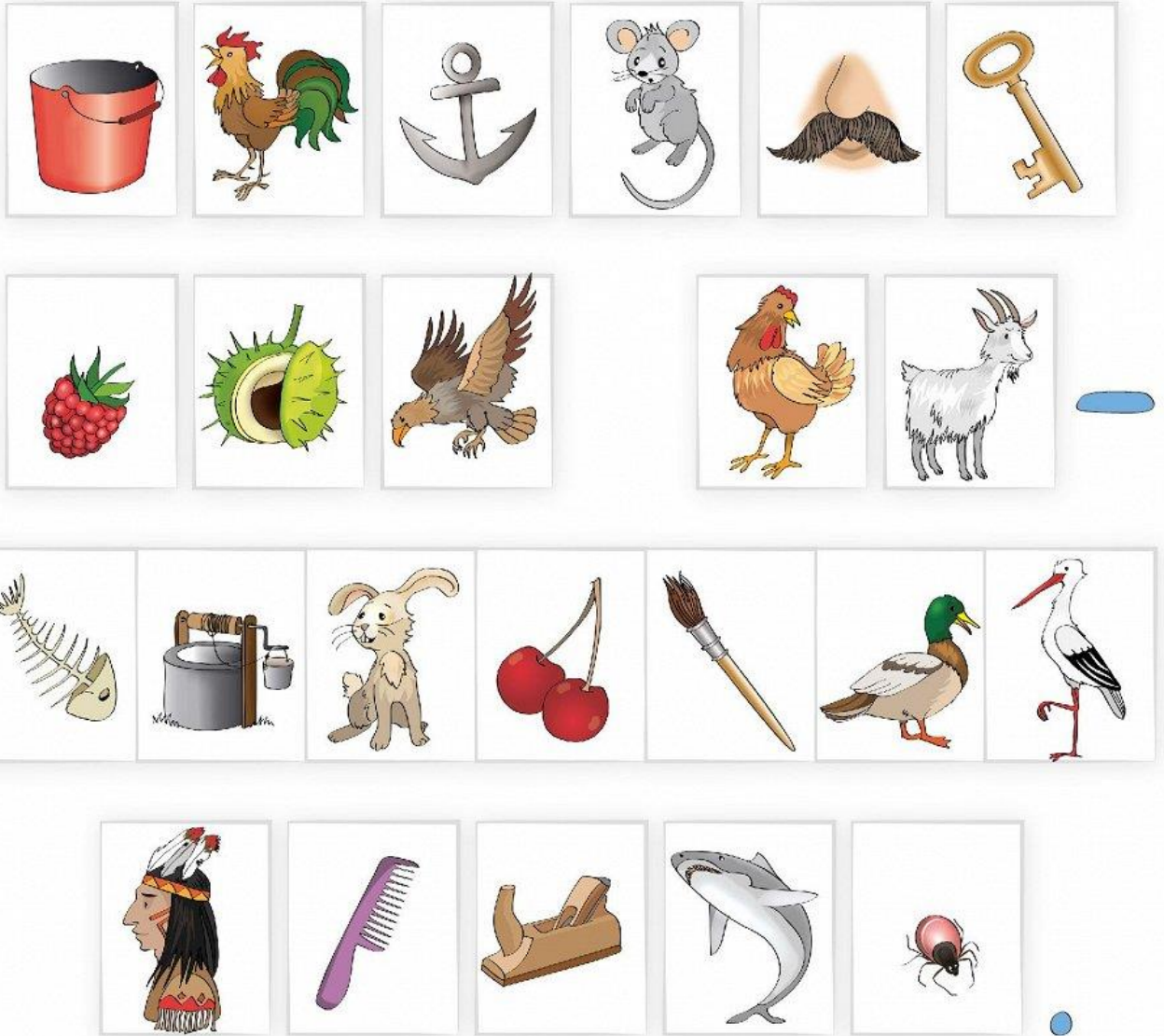
Avīze

### Darba gaita:

1. Ar irbulīti izdur folijā caurumu.
2. Ar pirkstu uzpilini uz caurumiņa ūdens lāsīti tā, lai ūdens piepildītu visu caurumu.
3. Uzmanīgi pacel aplīti pie acs un caur to paskaties uz avīzi. Ko tu redzi?
4. Kas notiktu, ja caurumu uztaisītu lielāku?




Lasi kopā zīmējumā attēloto lietu nosaukumu otros burtus.  
Uzdevums - kopā izlasīt un uzzīmēt zīmējumus atminējumiem. Ja lasīt grūti, burtus nosauc un pieraksti, tad izlasiet visu tekstu.



Mīkla: Panest var, izskaitīt nevar. Atbilde: Mati.

# Saliec vārdu no burtu jūklā!




ТЕКВЦО

---




АНИКГ

---




КИСТОЛ

---



ОРКИЛК

---



ВОРЕДЕ

---



ЧАВОКЕД

---



РОТТ


---



ВИРККО

---

Cik pāri?



**VIENAI PĪLEI IR DIVAS KĀJAS!**

**CIK KĀJU PĀRU IR 2 PĪLĒM?**



**CIK KĀJU PĀRU IR 3 PĪLĒM?**



**CIK KĀJU PĀRU IR 4 PĪLĒM?**







**CIK KĀJU PĀRU IR 5 PĪLĒM?**



**CIK KĀJU PĀRU IR 6 PĪLĒM?**



Cik konfekšu kopā?

					
$3+3$	$3+2$	$0+7$	$5+5$	$2+5$	$4+0$
					
$3+5$	$8+1$	$4+4$	$1+6$	$2+2$	$7+1$

# Atrod kaimiņu un ieraksti!

