

Uzdevumi 5 līdz 6 gadus veciem bērniem

Dabaszinību joma	Matemātikas joma	Valodas joma
<p>Pavasārī lidojot no zieda uz ziedu čakli darbojās bites. Pievienotajā materiālā vari uzzināt par bitēm. Pastaigā varbūt izdodās redzēt bites darbā. Taču, ja nepalaimējās, vairāk vari uzzināt te: https://bernistaba.lsm.lv/skaties/2567-ta-bites-strada-un-medu-gada https://bernistaba.lsm.lv/skaties/2568-ka-bites-nektaru-atrod</p> <p>Arī tu darba lapā vari palīdzēt bitītei atrast ceļu uz stropu!</p>	<p>Darba lapās atrod pazudušos skaitļus, saskaiti atliktos pirkstus un ieraksti iznākumu.</p>	<ol style="list-style-type: none">1. Atmini mīklas,2.1. Nosauc darba lapā redzamos dzīvniekus, uzraksti lodziņos viņu nosaukumus.2.2. mazākumtautību bērni savā darba lapā ievieto izlaistos burtus3. Pārrunā ar pieaugušo par bišu saražotajiem produktiem un kur tos izmantojam.4. Palīdzi bitei atrast ceļu līdz stropam.

Kā sauc šos dzīvniekus? Ieraksti lodziņos to nosaukumus!



--	--	--	--



--	--	--	--	--



--	--	--	--

--	--	--	--	--



Atmini!

Raiba gotiņa, zelta radziņi.

Mazs, mazs vīriņš, ass, ass cirvītis, kur cērt, tur pampst.

Maza, maza gotiņa, salds, salds pieniņš.

INTERESANTI



Bites dzīvo saimē. Saime mīt stropā. Katrai saimei ir sava bišu māte jeb karaliene – vislielākā bite, kas dēj olas. Darba bites visu laiku strādā, tās nedēj olas.

DARBĪGĀS BITES

Bišu saimē valda priekšzīmīga kārtība.
Katrai bitei ir noteikta vieta un pienākumi.



Bite izsūc no zieda saldu šķidrumu – nektāru.



Bites dziedzeri izdala vasku.
No tā būvē šūnas.



Bišumāte katrā šūnā iedēj olu. Pēc trim dienām no tās izšķiļas kāpurs.



Darba bites kāpuru baro,
un drīz vien tas kļūst par biti.

Вставь пропущенные буквы



О Е Ъ
... Н



... П А
П Е



Д О ... К А



Ш Р К
А ...



... Е К А
П

Pazuduši cipari, taurentiņš netiek pie puķītes! Ieraksti trūkstošos ciparus!





A sequence of numbers in boxes with dashed lines indicating the path:


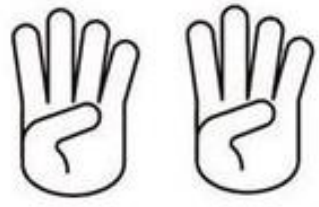
1		3	
	5		7
	9		







Saskaiti! Iznākumu uzraksti

 +  =

 +  =

 +  =

  +   =





 +  =

PAVASARIS - MOSTAS KUKAIŅI UN TĀRPI.





IZSKAITI, PIERAKSTI, IEKRĀSO...



KOPĀ:

IEKRĀSO TIKPAT DAUDZ KVADRĀTUS (ATTĒLO GRAFISKI).

										
										
										
										
	1	2	3	4	5	6	7	8	9	10

Palīdzi bitītei atrast ceļu līdz stropam

