




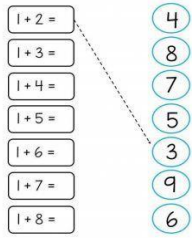


Mācību uzdevumi 5-6 gadus veciem bērniem

Dabas joma	Valodas joma	Matemātikas joma
<p>*Izgriez un pielīmē "Kas lido, kas rāpo?"</p> 	<p>*Ieraksti vārda pirmo skaņu.</p>  <p>*Raksti vārdus skaņu mājiņā, mācies saklausīt skaņas.</p> 	<p>*Saskaiti un rezultātā iezīmē atbilstošo skaitu punktiņus mārītēm.</p>  <p>*Saskaiti un pieraksti cik kukaiņišus redzi.</p>  <p>*Savieno pareizos rezultātus</p>  <p>*Atņem un ieraksti rezultātu.</p>



$$\begin{array}{ll} 8-2 = \underline{\quad} & 9-3 = \underline{\quad} \\ 6-1 = \underline{\quad} & 9-7 = \underline{\quad} \\ 9-8 = \underline{\quad} & 7-5 = \underline{\quad} \\ 8-5 = \underline{\quad} & 8-1 = \underline{\quad} \\ 6-5 = \underline{\quad} & 6-2 = \underline{\quad} \\ 7-6 = \underline{\quad} & 7-4 = \underline{\quad} \\ 9-5 = \underline{\quad} & 8-6 = \underline{\quad} \\ 7-1 = \underline{\quad} & 6-4 = \underline{\quad} \end{array}$$

Ieraksti vārda pirmo skaņu!



Raksti vārdus skaņu mājiņā, mācies saklausīt skaņas!



--	--	--	--

--	--	--	--	--	--	--	--

--	--	--	--	--	--


--	--	--	--

--	--	--	--	--	--

--	--	--	--	--

BITE, TAURENIS, MĀRĪTE, PUĶE, ZĪLĪTE, VARDE

Pastāsti, izgriez un ielīmē darba lapā "Kas lido, kas rāpo?"




Ielīmē attēlus!

Kas lido

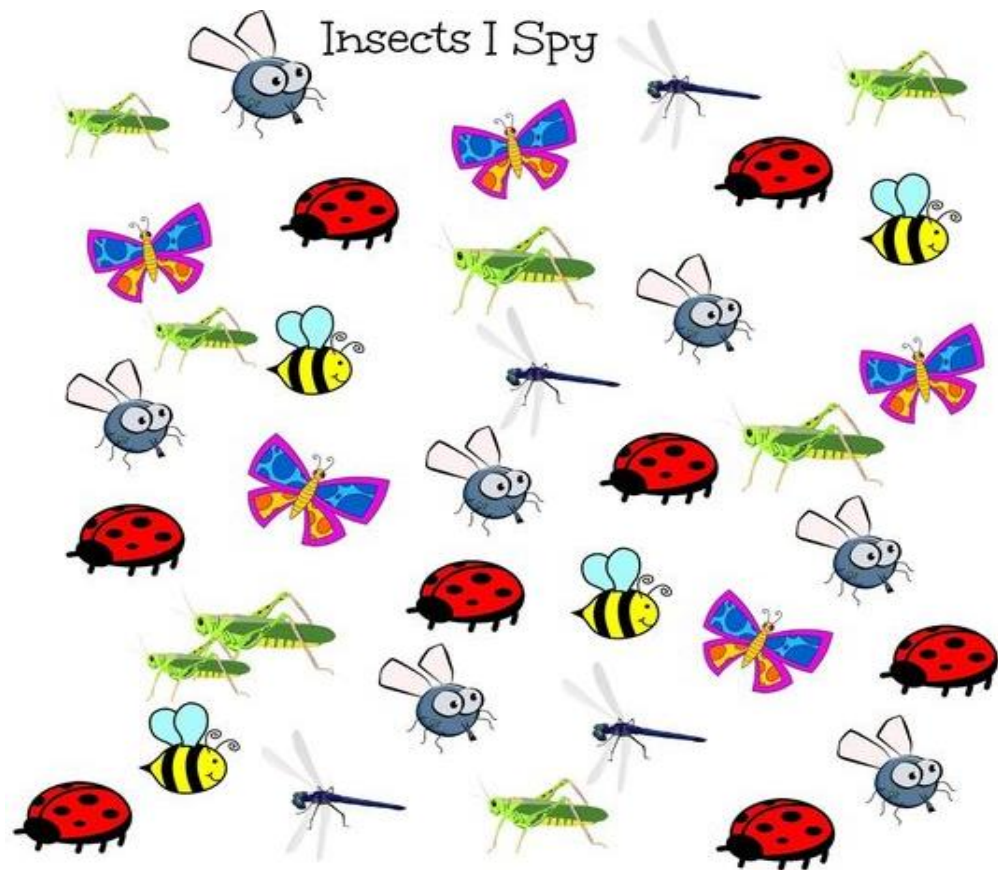
Kas rāpo







Saskaiti kopā mārīšu punktiņus un rezultātā iezīmē atbilstošo punktiņu skaitu trešajai mārītei!



Saskaiti un pieraksti, cik kukainīšus redzi!

Insects I Spy



	<input type="text"/>		<input type="text"/>		<input type="text"/>
	<input type="text"/>		<input type="text"/>		<input type="text"/>

Saskaiti un savieno pareizos rezultātus!

$1 + 2 =$

$1 + 3 =$

$1 + 4 =$

$1 + 5 =$

$1 + 6 =$

$1 + 7 =$

$1 + 8 =$

4

8

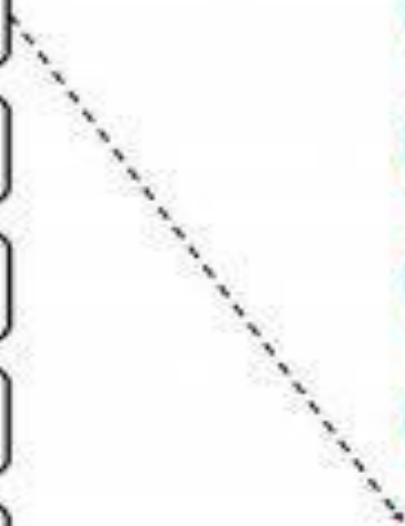
7

5

3

9

6



Atņem un ieraksti rezultātu!



$8 - 2 = \underline{\quad}$

$9 - 3 = \underline{\quad}$

$6 - 1 = \underline{\quad}$

$9 - 7 = \underline{\quad}$

$9 - 8 = \underline{\quad}$

$7 - 5 = \underline{\quad}$

$8 - 5 = \underline{\quad}$

$8 - 1 = \underline{\quad}$

$6 - 5 = \underline{\quad}$

$6 - 2 = \underline{\quad}$

$7 - 6 = \underline{\quad}$

$7 - 4 = \underline{\quad}$

$9 - 5 = \underline{\quad}$

$8 - 6 = \underline{\quad}$

$7 - 1 = \underline{\quad}$

$6 - 4 = \underline{\quad}$